

اخبار مهارات التفكير البصري لللاميذ المعاقين سمعياً بالصف الأول الإعدادي

إعداد:

أ/ أميرة محمد زكي فتح الله.. مدرس بقسم المناهج وطرق التدريس..

إشراف:

أ.د/ ماهر إسماعيل صبري.. أستاذ المناهج وطرق تدريس العلوم ورئيس قسم المناهج وطرق
التدريس وتكنولوجيا التعليم السابق بكلية التربية .. جامعة بنها..

أ.م.د/ رضا عبد القادر عبد الفتاح درويش.. أستاذ المناهج وطرق تدريس العلوم المساعد المتفرغ
بكلية التربية .. جامعة بنها..

عزيزي التلميذ...../ عزيزتي التلميذة


هذا اختبار في بعض المهارات اللازمة لك للتعايش في القرن الحادي والعشرين (مهارات التفكير البصري)، ويهدف إلى قياس مدى تمكنك من هذه المهارات، والرجاء اتباع التعليمات التالية:

- اكتب البيانات الخاصة بك قبل البدء في الاختبار.
- قراءة كل سؤال والتأمل في الصور والأشكال جيداً قبل الإجابة.
- اختيار إجابة واحدة فقط من بين ثلاث إجابات.
- عدم ترك أسئلة دون إجابة.
- إذا كان لديك أي استفسار فيما يتعلق بأسئلة الاختبار ارفع إصبعك وستجد معلمك يعطي لك المعلومات التي تريدها

وشكراً لتعاونكم

الباحثة

▪ افحص الصور التالية جيداً ثم أجب عن الأسئلة التي تليها



▪ قدم النعام..... قدم البطّة

(أ) أطول من

(ب) أقصر من

(ج) نفس طول

النعام.....

(أ) يلد

(ب) يبيض

(ج) لا يستطيع انتاج أفراد جديدة

▪ يستطيع النعام حماية نفسه من الخطر عن طريق

(أ) الجري.

(ب) الطيران.

(ج) الزحف.

▪ افحص الصور التالية جيداً ثم اختر الإجابة الصحيحة للأسئلة التي تليها:



٣



٢



١

▪ أطول المناقير في الصور التي أمامك تمثله.....

(أ) الصورة (١)

(ب) الصورة (٢)

(ج) الصورة (٣)

▪ منقار الطائر في الصورة (١).....

(أ) مستقيم

(ب) مفلطح

(ج) ملتوي

▪ تختلف هذه الطيور عن بعضها في.....

(أ) وجود زوج من العيون.

(ب) وجود ريش يغطي الجسم.

(ج) شكل وطول المنقار.

▪ افحص الصور التالية جيداً ثم اجب عن الأسئلة التي تليها



٣



٢




١



٦



٥



٤

▪ الصور التي تعبر عن حيوانات مفترسة هي

(أ) رقم (١، ٢، ٥)

(ب) رقم (١، ٢، ٣)

(ج) رقم (١، ٣، ٥)

▪ يتصف الفيل في الصورة رقم (٢) بوجود

(أ) أذن كبيرة وخرطوم طويل

(ب) حجم كبير وأذن صغيرة

(ج) أرجل كبيرة وخرطوم قصير


▪ أرجل الحمار في الصورة رقم (٤).....أرجل الفيل .

(أ) أسمن من

(ب) أنحف من

(ج) تماثل

▪ افحص الصور التالية جيداً ثم أجب عن الأسئلة التي تليها:



٢



١


▪ يرجع موت النباتات في الصورة رقم (٢) إلى

(أ) نقص الهواء

(ب) جفاف التربة

(ج) أكل الحيوانات لها.

▪ الجزء الناقص الذي يكمل الشكل التالي هو الجزء



ج



ب



أ

الصورة التي تعبر عن تحول الطاقة الكهربائية إلى طاقة ضوئية



ج

ب

أ

الصورة التالية تعبر عن أحد الأساليب الصحيحة للمحافظة على الماء.....



ج

ب

أ

افحص الصورة التالية جيداً ثم أجب عن الأسئلة التي تليها:



الصورة السابقة هي صورة.....

أ) رجل وامرأة وولدان

ب) رجل وامرأة وبناتان

ج) رجل وامرأة وولد وبنات.

▪ تتشابه الأشخاص الموجودة في الصورة في

(أ) لون الشعر

(ب) لون الملابس

(ج) حجم الجسم

▪ تمثل الصورة السابقة صورة.....

(أ) أصدقاء

(ب) جيران

(ج) أسرة

▪ أي من الصور التالية يعبر عن اختلاف الأشخاص في لون الجلد.....



ج



ب



أ

▪ افحص الصورة التالية جيداً ثم أجب:



الشخص في الصورة السابقة يستخدم المظلة كي يحمي نفسه من

(أ) الرياح.

(ب) الأمطار.

(ج) أشعة الشمس.

افحص الصور التالية جيداً ثم اجب عن الأسئلة التي تليها



٢



١

تمثل الصورة رقم (٢) صورة لشخص

(أ) صغير.

(ب) نحيف.

(ج) سمين.

يختلف الشخص في الصورة رقم (١) عن الشخص في الصورة رقم (٢) بسبب

(أ) أخذ القسط الكلي من الراحة والابتعاد عن ممارسة الرياضة.

(ب) تناول الخضراوات والفاكهة بدلا عن الوجبات السريعة.

(ج) تناول الوجبات السريعة بكميات كبيرة يوميا.

▪ افحص الصورة التالية جيدا ثم اجب عن الأسئلة



▪ يعاني الشخص الموجود في الصورة من آلام في

(أ) الرأس.

(ب) الزراع

(ج) المعدة

▪ يرجع سبب معاناة الشخص من الألم إلى.....

(أ) عدم أخذ القسط الكافي من النوم.

(ب) تناول الطعام الملوث.

(ج) الاجهاد الشديد في العمل.

▪ افحص الصورة التالية جيدا ثم اجب على الأسئلة:



الشكل الذي يمكنه إكمال الصورة السابقة هو



ج



ب



أ

افحص الأشكال التالية جيداً ثم اجب عن الأسئلة:



جميع الأوراق السابقة

أ) لونها أخضر

ب) مختلفة في اللون.

ج) ليس لها عنق

تختلف أوراق النباتات في

أ) الشكل فقط.

ب) الحجم فقط.

ج) الشكل والحجم.

▪ افحص الصور التالية جيداً ثم أجب عن الأسئلة




▪ تعبر الصور السابقة عن طرق المحافظة على.....

(أ) العين.

(ب) الاسنان.

(ج) الأنف.

▪ تمثل الصورة أحد أسباب تسوس الاسنان



ج

ب

أ

▪ افحص الصور التالية جيداً ثم أجب عن الاسئلة



(٢)

(١)

▪ تتناول الطفله في الصورة رقم (١)

(أ) الأرز واللحوم بجانب الكولا.

(ب) الفواكه واللحوم بجانب العصير.

(ج) السلطة الخضراء والمياه.


▪ الصورة التي تعتبر نموذجاً للغذاء الصحي هي الصورة رقم

(١) (أ)

(٢) (ب)

(٣) (ج) و(٢) معاً

▪ افحص الصور التالية جيداً ثم اجب



▪ جميع الكائنات في الصور السابقة.....

(أ) تلد ويغطي جسمها ريش.

(ب) تبيض ويعطي جسمها الشعر.

(ج) تبيض ويغطي جسمها الريش.